


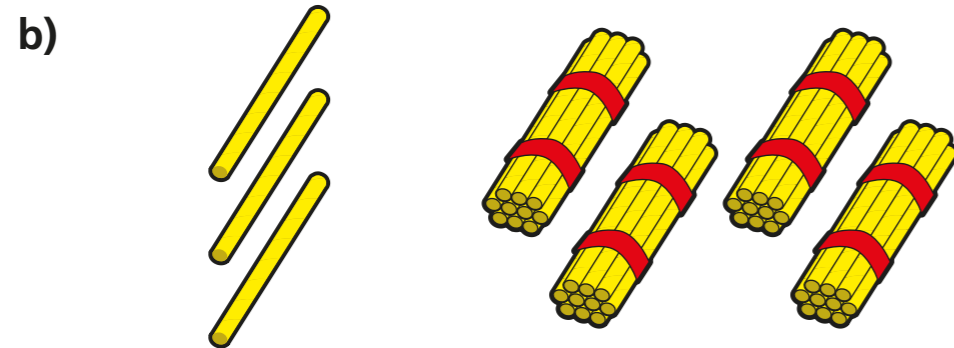


1 Cwblhewch y brawddegau er mwyn disgrifio'r rhif.



Mae yna deg a uned.

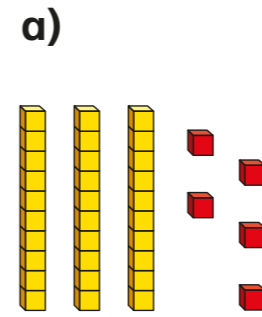
Y rhif yw



Mae yna deg a uned.


Y rhif yw

2 Cwblhewch y brawddegau.



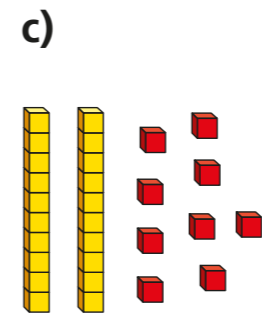
Mae yna deg a uned.

Y rhif yw



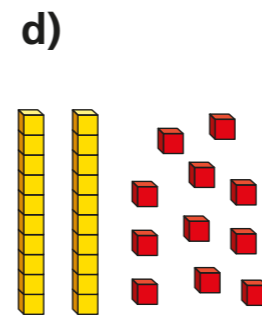
Mae yna deg a uned.

Y rhif yw



Mae yna deg a uned.

Y rhif yw



Mae yna deg a uned.

Y rhif yw

Sut wnaethoch chi gyfri'r degau a'r unedau?





3 Tynnwch lun i ddangos bob rhif.
Cwblhewch y brawddegau.

a)

Mae 1 deg a 5 uned.

Y rhif yw

b)

Mae deg

a uned.

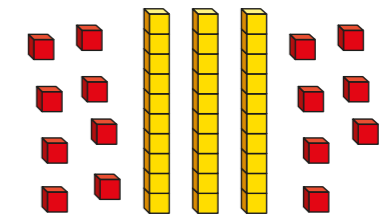
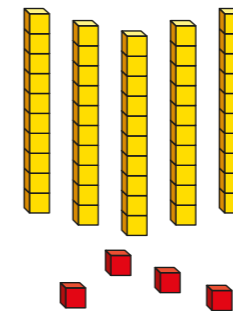
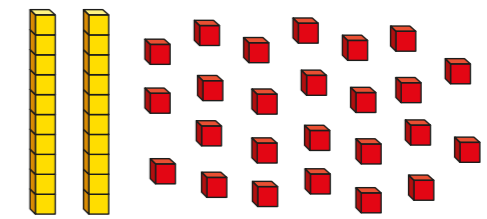
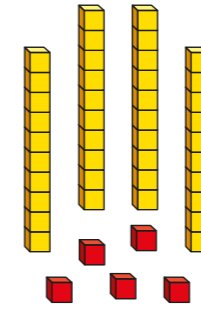
Y rhif yw 30



4 Defnyddiwch sylfaen 10 i ddangos y rhif 52 mewn dau ffordd gwahanol.

5 Mae Rosie yn ceisio dangos y rhif 45 mewn gwahanol ffyrdd.

Pa lun sydd ddim yn dangos 45?
Rhowch gylch o gwmpas eich ateb.



Trafodwch gyda ffrind am y camsyniad mae Rosie wedi ei wneud.

6 Mae Amir yn meddwl am rif 2-ddigid.

- Mae 3 degau yn fwy nac unedau.
- Mae 4 uned.

Pa rif mae Amir yn meddwl am?

Mae Amir yn meddwl am y rhif

Sawl ffordd gwahanol allwch ddangos rhif Amir?

