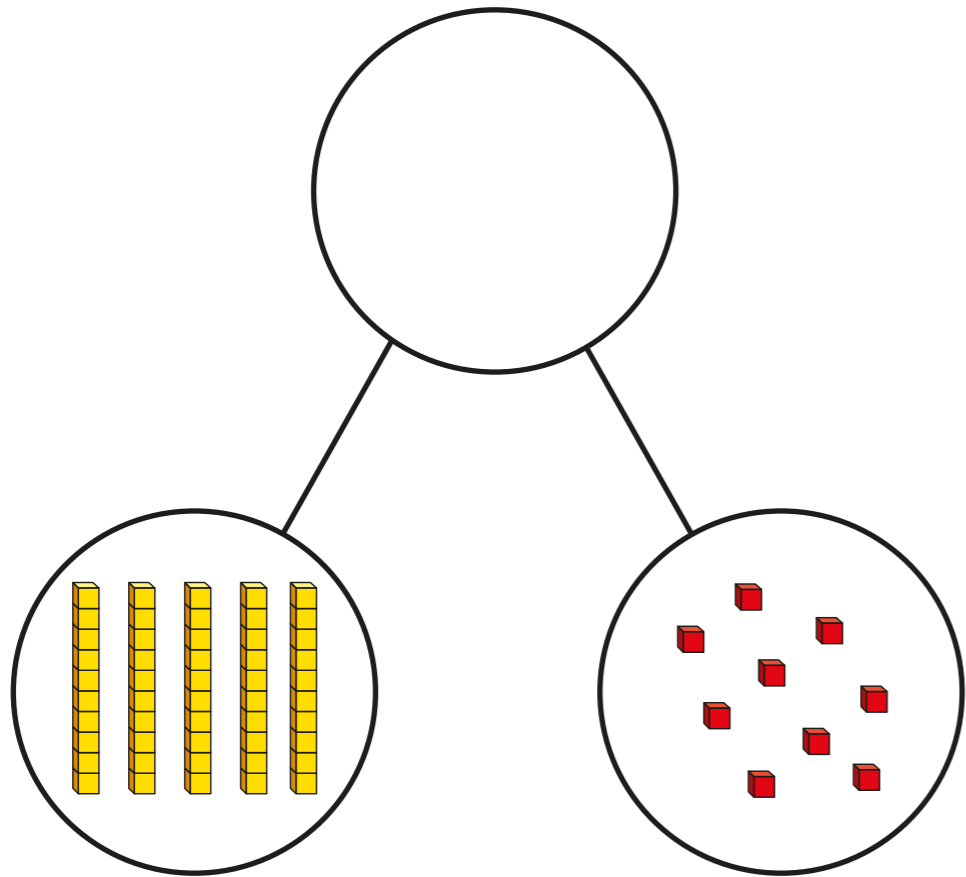


Degau ac unedau gan ddefnyddio adio.



1 Cwblhewch y model.



Cwblhewch y brawddegau.

Mae yna degau a unedau.

Y rhif cyfan yw

$$\square + \square = \square$$

2 Cwblhewch y brawddegau i ddisgrifio pob rhif.

- a) Mae gan 39 degau a unedau.
- b) Mae gan 70 degau a unedau.
- c) Mae gan 12 degau a unedau.
- d) Mae gan 56 degau a unedau.

3 Cwblhewch y brawddegau rhif i ddisgrifio pob rhif.

Mae'r un gyntaf wedi ei wneud i chi.

- a) $39 = 30 + 9$
- b) $70 = \square + \square$
- c) $12 = \square + \square$
- d) $56 = \square + \square$

4 Mae gan Dexter 30 pensil lliw a mae gan Dora 28 pensil lliw .

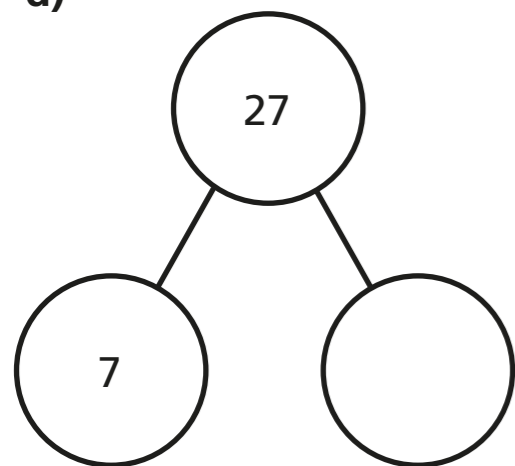
Dangoswch y cyfanswm o bensiliau lliw.

- Defnyddiwch y blociau degau ac unedau.
- Dangoswch hyn fel rhan o frawddeg rhif.

5 Cwblhewch y model.

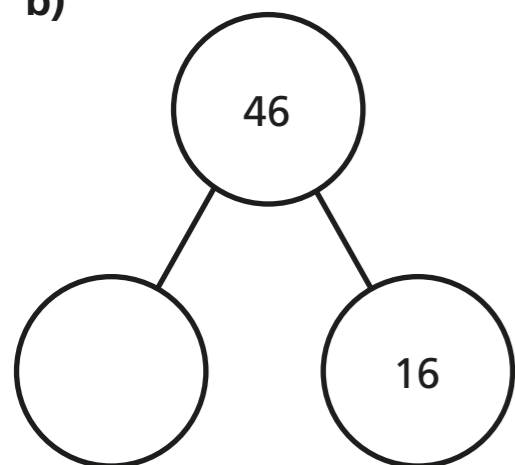
Ysgrifennwch pedwar brawddeg rhif i gyd-fynd a'r model.

a)



	+		=	
	+		=	
	=		+	
	=		+	

b)



	+		=	
	+		=	
	=		+	
	=		+	

6 Cwblhewch y brawddegau rhif.

- | | |
|------------------------|-----------------------------|
| a) $35 = 30 + \square$ | e) $19 + 20 = \square$ |
| b) $20 + \square = 29$ | f) $67 = 50 + \square$ |
| c) $42 = 2 + \square$ | g) $99 = \square + 39$ |
| d) $50 + 7 = \square$ | h) $40 + 30 + \square = 81$ |

7 Mae Annie yn meddwl fod $50 + 9 = 509$

Dangoswch pa gamsyniad mae Annie wedi gwneud.
Sut byddech yn helpu Annie i gael hyn yn iawn tro nesaf?
Trafodwch a ffrind.

8 Cwblhewch y brawddegau rhif.

$$30 + \square = 20 + \square$$

Cymharwch eich ateb a ffrind.
Sawl ffordd arall allwch gwblhau'r brawddeg rhif.

