


1 Sawl balwn sydd?

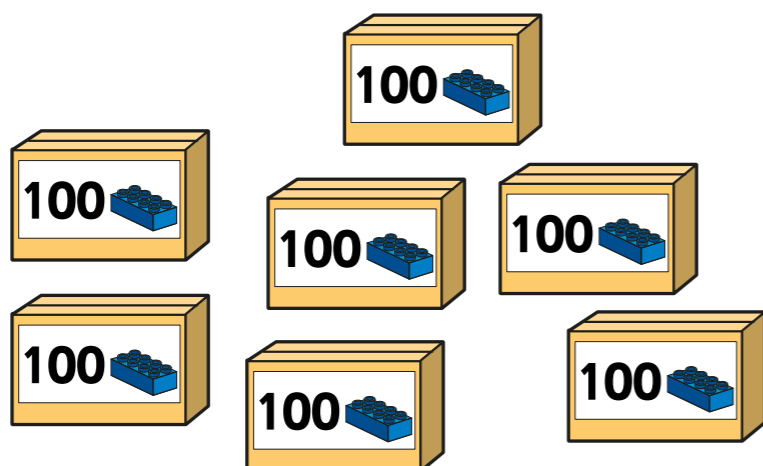


Ysgrifennwch eich atebion mewn rhifau a geiriau.

Mae yna  balwn.

Mae yna \_\_\_\_\_ balwn.

2 Sawl bloc sydd?



Mae yna  bloc.

Mae yna \_\_\_\_\_ bloc.

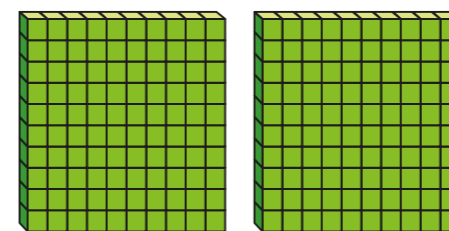


3 Rhowch gylch o amgylch 800 pin.



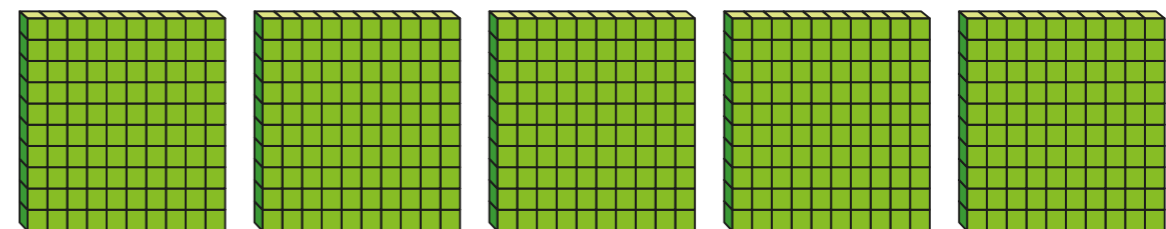
4 Pa rif sydd yn cael ei ddangos yma?

a)



\_\_\_\_\_



b)



\_\_\_\_\_

5 Mae Jack yn dangos y rhif yma.

Rydw i wedi dangos deg cant.

Ydy Jack yn gywir? \_\_\_\_\_



Ysgrifennwch y rhif mewn ffordd gwahanol.

\_\_\_\_\_

\_\_\_\_\_



6 Cwblhewch y traciau rhif.



7 Mae Rosie yn dechrau ar 0 ac yn cyfri fyny mewn cannoedd.

Rhowch gylch o amgylch y rhifau y mae'n dweud.

500	50	900	70
1,000	100	99	10

8 Mae Amir angen 700 cownter.  
Mae 100 cownter ymhob bag.

Mae gan Amir 400 cownter.

Sawl bag o gownteri sydd angen arno?



Mae Amir angen  mwy o fagiau o gownteri.

Sut wnaethoch chi gyfrifo hyn? Trafodwch a ffrind.

9 Ydy'r rhif 100 yn cael ei ddangos fan hyn? Siaradwch a ffrind.

